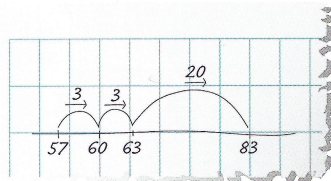


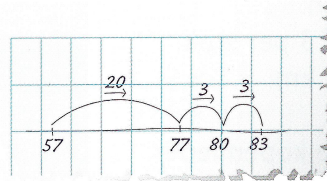
1 Hoeveel mensen kunnen er in de bus?



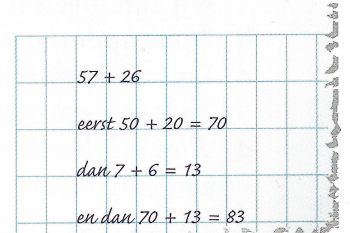
Tessa rekt zo:
Eerst de enen,
dan de tienen.



Omar rekt zo:
Eerst de tienen,
dan de enen.



Rosa rekt zo:
Eerst de tienen bij elkaar,
dan de enen bij elkaar.



2 Reken uit op je eigen manier.

$43 + 24 =$

$43 + 35 =$

$63 + 28 =$

$16 + 67 =$

3 Hoeveel mensen kunnen erin?

a In de tram.



tram 7	
wagon 512	
zitplaatsen	53
staanplaatsen	46

b In het vliegtuig.



AIR JET 36913
passagiers
economy class 62
business class 36

c Op de veerboot.



MS Rijnvaart	
zitplaatsen	
1 ^e klasse	28
zitplaatsen	
2 ^e klasse	58